

DATOS DE LA PERSONA ASPIRANTE	CALIFICACIÓN
Nombre y apellidos: _____	Numérica de 0 a 10, con dos decimales
DNI/NIE/Pasaporte: _____	

PRUEBAS DE ACCESO A CICLOS FORMATIVOS DE GRADO SUPERIOR

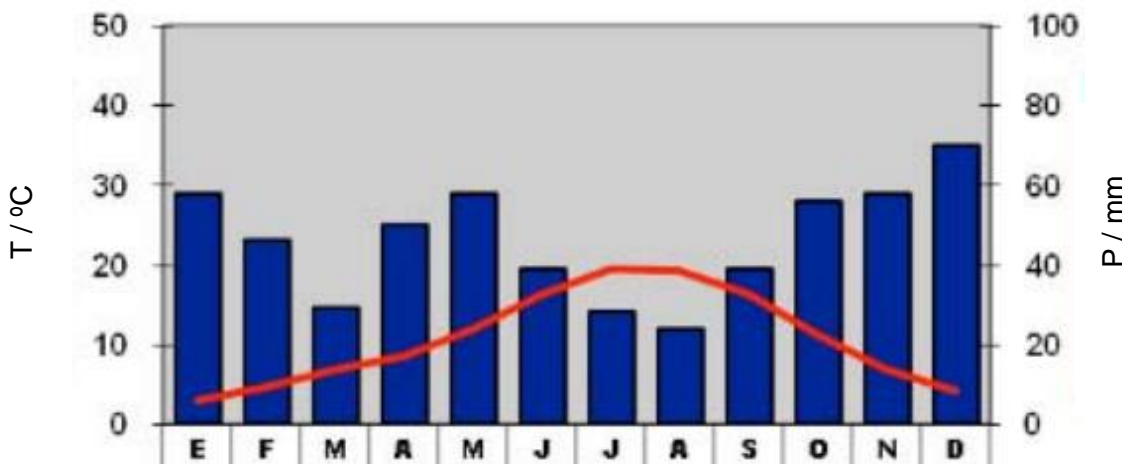
RESOLUCIÓN de 16 de enero de 2023, BOA 25/01/2023

PARTE ESPECÍFICA

OPCIÓN C. HUMANIDADES Y CIENCIAS SOCIALES: GEOGRAFÍA

1. Realice un comentario pormenorizado de los elementos térmicos y pluviométricos de este climograma, indicando a qué dominio climático español pertenece y describiendo las características del paisaje natural asociado al mismo (2 puntos).

Altitud 916 m. Temperatura media anual 10,8º C. Precipitaciones totales anuales 555 mm.



2. ¿Qué instituciones ejercen los poderes del Estado? Exponga, en cada caso, sus funciones, su composición y el método de elección de sus miembros (2 puntos).



3. Responda con brevedad y precisión las siguientes preguntas (2 puntos).

- a. Explique los conceptos de función y de jerarquía urbana, aportando ejemplos de ambos (0,5 puntos).
- b. Señale los objetivos de la Política Agraria Común (0,5 puntos).
- c. Defina desertización y enumere sus causas (0,5 puntos).
- d. ¿Por qué España tiene una posición energética deficitaria? (0,5 puntos).

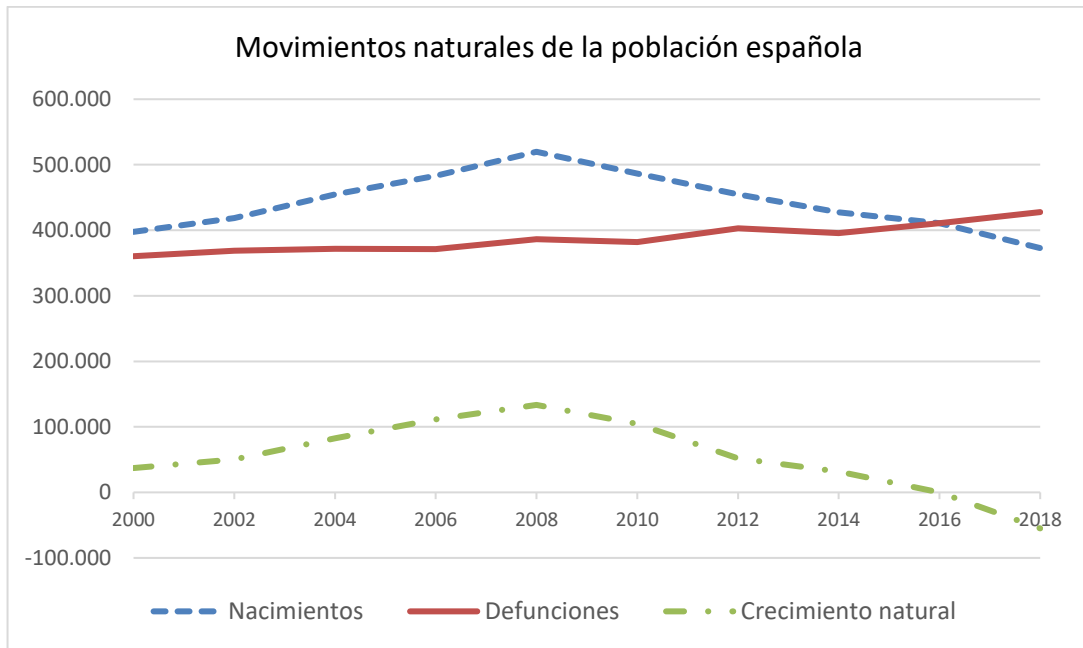
4. A partir de esta serie de datos sobre la distribución porcentual de la población activa española obtenida del Instituto Nacional de Estadística, responda las cuestiones (2 puntos).

	Distribución porcentual de los activos por sector económico			
	Agricultura	Industria	Construcción	Servicios
2022	4,2	12,3	6,2	70,3
2020	4,1	12,8	6,1	70,4
2018	4,6	12,6	5,8	68,5
2016	4,5	11,7	5,4	66,5
2014	4,6	11,2	5,5	63,5
2012	4,4	12,0	7,2	64,3
2010	4,4	12,7	9,7	64,6
2008	4,3	15,4	13,0	63,9

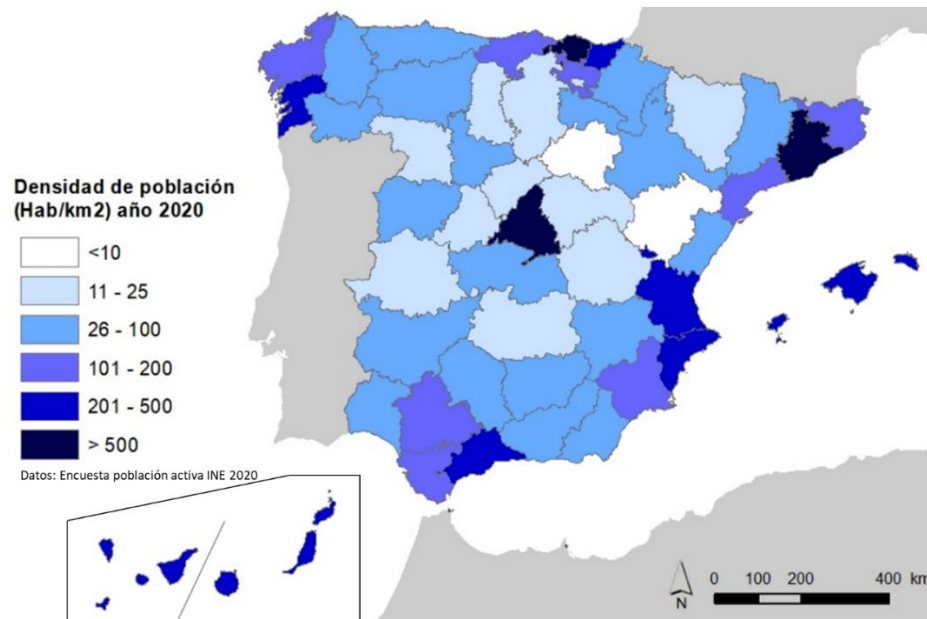
- a. Describa y explique la evolución de la población ocupada en el sector secundario (1 punto).
- b. A la vista de la información recogida en la tabla, ¿es posible afirmar que España es un país terciarizado? Justifique su respuesta (1 punto).

5. Responda las siguientes cuestiones sobre la población española (2 puntos).

- a. Partiendo del gráfico elaborado a partir de las series de datos procedentes del Instituto Nacional de Estadística, analice el comportamiento de los movimientos naturales de la población española en el periodo representado y relaciónelos con la estructura por edades de dicha población (1 punto).



- b. Con ayuda del mapa, describa la distribución territorial de la población española exponiendo las razones que la han determinado (1 punto).



Fuente: Dpto. Geografía y Ordenación del Territorio, Universidad de Zaragoza a partir de datos del Instituto Nacional de Estadística (España) y bases cartográficas del Instituto Geográfico Nacional.

INSTRUCCIONES DE APLICACIÓN Y MATERIALES PERMITIDOS

En la calificación se tendrá en cuenta la coherencia expositiva y el empleo de la terminología adecuada.

No se permiten materiales de apoyo.